

20

ПИТАНЬ ПДР які краще не пропускати

А

ВАРІАНТ ВІДПОВІДІ
здається логічним, але
часто веде до помилки

Б

ПІСЛЯ РОЗБОРУ
логіка відповіді стає
очевидною

В

ТИПОВА ПАСТКА
саме тут найчастіше
плутаються



34,6 млн

проаналізовано
відповідей користувачів

54,3%

користувачів помилились
у відібраних питаннях

20

найскладніших офіційних
питань для повторення

Це не список страшних питань

Ми зібрали питання офіційного теоретичного іспиту, на яких кандидати у водії найчастіше помиляються за статистикою відповідей на testpdr.online.

Не проходите ці питання як звичайний тест. Їх краще розбирати як помилки на іспиті: повільно, з поясненням і поверненням до правила.

460,2 тис.

відповідей наших користувачів припадає саме на ці 20 питань. Це достатня база, щоб побачити системні помилки.

Що важливо знати

Не намагайтесь вивчити всі відповіді напам'ять. Розберіть неправильні або сумнівні питання: знайдіть ключове слово в умові, правильну відповідь і пункт ПДР.

34,6 млн

відповідей

загальна статистична база для аналізу питань

54,3%

помилки

середній % неправильних відповідей у цих питаннях

20

питань

коротка добірка для повторення перед іспитом

1

Спробуйте відповісти без підказки

Виберіть варіант так, ніби це реальний іспит

2

Порівняйте відповідь

Зверніть увагу на те, чому інші відповіді виглядають переконливо

3

Поверніться до правила або теми

Не зубріть відповідь, відкрийте пункт ПДР, тему або тренажер на сайті

4

Пройдіть питання ще раз через день

Якщо відповідь стала очевидною без підказки, питання більше не є пасткою

Що спільного у цих двох дорожніх знаків?

25,8 тис. неправильних

18,5 тис. правильних





5.16



5.17.1

- А Встановлюються перед перехрестями.
- Б Інформують про кількість смуг попутного напрямку.
- В Інформують про кількість смуг на проїзній частині.
- Г Вказують дозволений рух по смугах.


Знак 5.16  показує, у які саме сторони (прямо, направо чи наліво) дозволено їхати з кожної конкретної смуги перед перехрестям.


Знак 5.17.1  показує, які саме смуги призначені для руху у вашому напрямку (стрілки вгору), а які – для зустрічного транспорту (стрілка вниз).


Що у них спільного?:

Обидва ці знаки належать до інформаційно-вказівних і розподіляють потік транспорту, тобто чітко вказують водієві дозволений рух по конкретних смугах.

Чому інші варіанти не підходять:

Встановлюються перед перехрестями – не підходить, бо знак 5.17.1  встановлюється на довгих ділянках доріг (перегонах), а не лише перед перехрестями.

Інформують про кількість смуг попутного напрямку – знак 5.17.1  показує також і зустрічну смугу.

Інформують про кількість смуг на проїзній частині – знак 5.16  показує лише смуги вашого (попутного) напрямку на перехресті, а не всю ширину проїзної частини разом із зустрічними смугами.

Як позначити транспортний засіб, що буксирується, якщо у нього несправна або відсутня аварійна світлова сигналізація?

24,7 тис. неправильних

20,5 тис. правильних



- А** Установити ззаду на транспортному засобі щитки розміром 40x40 см з нанесеними по діагоналі червоними і білими смугами, що чергуються.
- Б** Встановити ззаду на транспортному засобі знак аварійної зупинки, а в умовах недостатньої видимості – миготливий червоний ліхтар.
- В** Установити ззаду на транспортному засобі знак аварійної зупинки або миготливий червоний ліхтар.
- Г** Виконати вимогу, вказану у відповіді 1 або відповіді 2.
- Д** Відповіді 1, 2 і 3.

Якщо транспортний засіб не обладнано аварійною світловою сигналізацією або вона несправна, на транспортному засобі, що буксирується, ззаду повинен бути встановлений знак аварійної зупинки або миготливий червоний ліхтар.

У чому підвох?

Варіант №2 (де згадуються умови недостатньої видимості) сформульований дуже логічно з життєвої точки зору, але він є тестовою пасткою. Здається природним, що ліхтар потрібен лише в темноті чи в тумані, а трикутник – вдень.

У самому тексті пункту правил немає додаткової умови про недостатню видимість для ліхтаря – водій має законне право обрати будь-який із цих двох засобів у будь-який час доби.

Яким транспортним засобам дозволено рух на даний жест регулювальника?

23,8 тис. неправильних

20 тис. правильних



- А Усім транспортним засобам.
- Б Трамваю і білому автомобілю.
- В Трамваю і синьому автомобілю.
- Г Білому і синьому автомобілям.

Регулювальник стоїть так, що для транспортних засобів, які бачать його з боку, рух дозволений:
нерейковим транспортним засобам (автомобілям) — прямо і праворуч;
трамваю — тільки ліворуч.

У цій ситуації:

білий автомобіль рухається прямо — йому дозволено;

синій автомобіль повертає праворуч — йому дозволено;

у трамвая немає сигналів повороту, отже він рухається прямо, а на такий жест йому дозволено лише рух ліворуч.

Золоте правило для трамвая: він завжди їде строго із рукава в рукав регулювальника.

Світлофор у цій ситуації не має значення, тому що сигнали регулювальника мають перевагу над сигналами світлофора.

У якому напрямку Вам дозволено рух в зображеній ситуації?

18,5 тис. неправильних

15,9 тис. правильних



А Прямо, праворуч, ліворуч і розворот.

Б Ліворуч.

В Ліворуч і розворот.

Г Прямо, ліворуч і розворот.

На світлофорі увімкнена зелена стрілка ліворуч. Вона дозволяє рух тільки в напрямку, який показує стрілка.

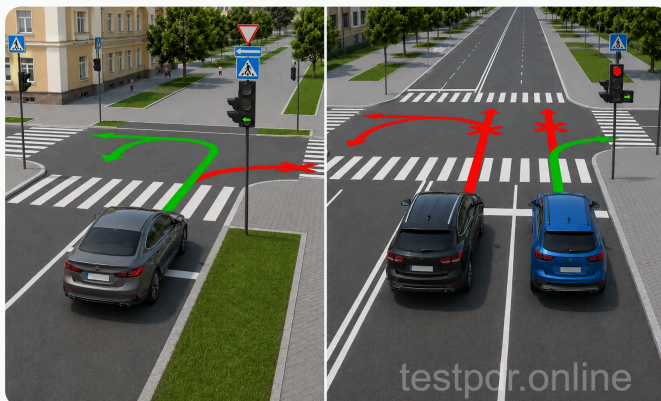
Для водія білого автомобіля це означає:

прямо — не можна;

праворуч — не можна;

ліворуч — можна;

розворот — можна, бо зелена стрілка ліворуч також дозволяє розворот, якщо немає знака, який його забороняє.






Зображені дорожні знаки вказують:

13,3 тис. неправильних

11,5 тис. правильних



- A** Рекомендований напрямок руху для вантажних автомобілів.
- Б** Рекомендований напрямок руху для самохідних машин.
- В** Обов'язкові напрямки руху для вантажних автомобілів і самохідних машин.
- Г** Відповіді 1 і 2.

Знаки 5.31.1 , 5.31.2 , 5.31.2  показують рекомендований напрямок руху для вантажних автомобілів і самохідних машин.

Ключове слово — **рекомендований**.

Ці знаки: не зобов'язують їхати тільки у вказаному напрямку;
не забороняють рух в інші напрямки самі по собі;
лише підказують рекомендований маршрут для вантажного транспорту або самохідних машин.

Тому варіант "Обов'язкові напрямки руху..." неправильний.

На кого (які транспортні засоби) не поширюється дія зображеного дорожнього знака?

10,9 тис. неправильних

9,4 тис. правильних



- А** На таксі, що здійснюють посадку або висадку пасажирів (розвантаження чи завантаження вантажу).
- Б** На транспортні засоби, що рухаються за встановленими маршрутами.
- В** На водіїв з інвалідністю, що керують мотоциклом або автомобілем, позначеними розпізнавальним знаком «Водій з інвалідністю».
- Г** Відповіді 1 і 2.
- Д** Відповіді 1, 2 і 3.

Знак 3.34  забороняє і зупинку, і стоянку транспортних засобів.

Але є винятки:

таксі — дія знака не поширюється на таксі, якщо воно здійснює посадку пасажирів, висадку пасажирів або розвантаження чи завантаження вантажу. Таксі не може просто стояти під цим знаком без причини. Виняток діє саме для короткої зупинки з конкретною метою.


маршрутні транспортні засоби — дія знака не поширюється на транспортні засоби, що рухаються за встановленими маршрутами. Це стосується маршрутних автобусів, тролейбусів, трамваїв, якщо вони рухаються за маршрутом.

Водії з інвалідністю — цей варіант неправильний, бо знак без додаткової таблички не дає такого винятку.


У якому з напрямків Вам дозволено рух у зображеній ситуації?

10,2 тис. неправильних

8,8 тис. правильних

 А У напрямку А або Б. Б У напрямку А, Б або В. В У напрямку А, Б, В або Г. Г У напрямку Б, В або Г.


Перед Вами дорога з розділювальною смугою. Тому фактично є не одне велике перехрестя, а два перехрещення проїзних частин:
перше – ближня проїзна частина;
друге – дальня проїзна частина, вже за розділювальною смугою.

Знак 4.4  діє тільки на те перехрещення проїзних частин, перед яким він установлений, тобто на перше.

Тому на першому перехрещенні Вам дозволено:

А – праворуч;

Б – прямо.

Коли Ви проїхали перше перехрещення і опинилися за розділювальною смугою, дія знака 4.4  вже не визначає подальший маневр на другому перехрещенні.
Тому напрямки В і Г також дозволені.

Що спільного у цих двох дорожніх знаків?


13,8 тис. неправильних


11,9 тис. правильних



- А** Встановлюються тільки на Т-подібних перехрестях.
- Б** Не забороняють поворот направо.
- В** Завжди дозволяють розворот.
- Г** Дозволяють рух прямо для маршрутних транспортних засобів.

Знаки на зображенні різні за призначенням:


1.4.3  — попереджувальний знак, який показує напрямок повороту або об'їзду. Він інформує, куди йде дорога або в який бік треба об'їжджати перешкоду.

4.6  — наказовий знак. Він дозволяє рух тільки в напрямках, показаних стрілками: праворуч або ліворуч.

Спільне між ними: обидва не забороняють поворот праворуч.

Чому інші варіанти неправильні:

такі знаки можуть застосовуватися не тільки на Т-подібних перехрестях;

знак 1.4.3  не є знаком, який щось дозволяє, він лише показує напрямок руху;

знак 4.6  не дозволяє рух прямо, бо на ньому немає стрілки прямо.


Зображений дорожній знак позначає:

12,6 тис. неправильних

10,9 тис. правильних



- А** Зону за довжиною для розвороту транспортних засобів; поворот ліворуч у такому місці дозволено.
- Б** Зону за довжиною для розвороту тільки вантажних транспортних засобів; поворот ліворуч у такому місці заборонено.
- В** Зону за довжиною для розвороту транспортних засобів; поворот ліворуч у такому місці заборонено.

Знак 5.30  означає місце або зону для розвороту. Число 15 м показує довжину зони, у межах якої можна виконати розворот.

Головне: знак дозволяє саме розворот, а не поворот ліворуч. Поворот ліворуч у такому місці заборонений, бо знак позначає не перехрестя і не напрямок руху ліворуч, а спеціально місце для розвороту.

Де можна помилитися: сплутати дозвіл на розворот і дозвіл на поворот ліворуч.




Дія зображених дорожніх знаків поширюється:

11,4 тис. неправильних

9,9 тис. правильних



- А На ділянку дороги від місця встановлення до найближчого перехрестя за ним.
- Б На перехрещення проїзних частин та інші місця, перед якими встановлено один із цих знаків.
- В У населених пунктах, де немає перехресть, – до кінця населеного пункту.
- Г Відповіді 1 і 3.


Зображені знаки 3.22  "Поворот праворуч заборонено", 3.23  "Поворот ліворуч заборонено" та 3.24  "Розворот заборонено". Їх дія поширюється на конкретне місце маневру, перед яким вони встановлені.

Тобто ці знаки не діють на всю ділянку дороги до наступного перехрестя. Їх не треба сприймати як заборона на ділянці дороги. Вони працюють точково і забороняють відповідний маневр саме на найближчому перехрещенні проїзних частин або в іншому місці, перед яким їх поставили.

Який із зображених дорожніх знаків інформує про те, що додаткова смуга руху прилягає до основної смуги руху на одному рівні з правого боку?

11,2 тис. неправильних

9,7 тис. правильних



А Знак 1.

Б Знак 2.

В Знак 3.

Г Знак 4.


Д Знак 5.

На знаку 5.23  видно:


основна смуга руху йде прямо;


справа до неї плавно приєднується додаткова смуга;


обидві смуги знаходяться на одному рівні, тобто це не з'їзд, не розгалуження і не смуга розгону з окремим режимом.


Тому знак 5.23  інформує саме про прилягання додаткової смуги справа.

Чому інші неправильні:

Знак 5.22  — позначає місце, де смуга для розгону прилягає до основної смуги руху.

Знак 5.21.1  показує на кінець додаткової смуги або смуги для розгону.

Знак 5.20.1  позначає початок додаткової смуги на підйом або смуги гальмування на транспортних розв'язках в одному або різних рівнях.

Знак 5.28  інформує водія про розташування смуги, спеціально підготовленої для аварійної зупинки транспортних засобів у разі відмови гальмової системи.

Чи дозволено Вам зупинку в зазначеному місці для висадки пасажирів?

10 тис. неправильних

8,6 тис. правильних

 А Дозволено. Б Дозволено тільки із заїздом на тротуар. В Дозволено, якщо не буде створено перешкод маршрутним транспортним засобам. Г Заборонено.

У цій ситуації Ви хочете виконати зупинку для висадки пасажирів біля правого краю проїзної частини.

Це дозволено, тому що:


розмітка 1.10.1  позначає місце, де стоянку заборонено, але зупинку не заборонено;

зупинка виконується біля правого краю дороги;

немає знака 3.34  "Зупинку заборонено";

немає умови, яка прямо забороняє зупинку саме в цьому місці;

висадка пасажирів — це саме зупинка, а не стоянка.

Якби біля правого краю проїзної частини була суцільна жовта лінія 1.4 , тоді це означало б заборону зупинки і стоянки.

З яким дорожнім знаком встановлюється зображена табличка?

9,9 тис. неправильних

8,6 тис. правильних



①



②




③




А Зі знаком 1.


Б Зі знаком 2.

В Зі знаком 3.

Г З знаками 1 і 2.

Зображена табличка 7.1.2  встановлюється перед перехрестям, щоб попередити водія, що попереду через 250 м буде місце, де потрібно буде зупинитися.

Сама табличка 7.1.2  може встановлюватися не тільки зі знаком 2.2  "Проїзд без зупинки заборонено", а й зі знаком 2.1  "Дати дорогу", якщо треба заздалегідь попередити, що попереду буде знак "STOP".

Підвох: напис "STOP" не означає, що табличка ставиться тільки під знаком 2.2  STOP.


Зображений дорожній знак дозволяє рух:

9,6 тис. неправильних

8,3 тис. правильних



- А** Легкових автомобілів і мотоциклів.
- Б** Автобусів і маршрутних транспортних засобів.
- В** Вантажних автомобілів, дозволена максимальна маса яких не перевищує 3,5 т.
- Г** Відповіді 1 і 2.
- Д** Відповіді 1, 2 і 3.

Знак 4.11  дозволяє рух автомобілям і тим транспортним засобам, які прирівнюються до дозволених для цього знака категорій.

Тому дозволено рух:

1. Легкових автомобілів і мотоциклів. Це основна група транспортних засобів, для яких цей знак дозволяє рух.
2. Автобусів і маршрутних транспортних засобів. Автобуси також належать до транспортних засобів, яким рух за цим знаком дозволений.
3. Вантажних автомобілів з дозволеною максимальною масою до 3,5 т. Легкі вантажні автомобілі до 3,5 т також можуть рухатися.

Підвох у тому, що на знаку намальований легковий автомобіль, тому здається, що він стосується тільки легкових авто. Але за правилами цей знак не обмежується лише легковими автомобілями.

На які з перелічених транспортних засобів не поширює свою дію даний дорожній знак?

9 тис. неправильних

7,7 тис. правильних



А На мопеди.

Б На велосипеди.

В На мотоцикли.

Г На квадроцикли.

Д Відповіді 1 і 2.

Знак 3.2  забороняє рух механічних транспортних засобів.

Велосипед не є механічним транспортним засобом, бо приводиться в рух силою людини, а не двигуном. Тому дія цього знака на велосипеди не поширюється.

Чому інші варіанти неправильні:

мопед – має двигун, тому належить до транспортних засобів, на які дія знака поширюється;

мотоцикл – механічний транспортний засіб;

квадроцикл – механічний транспортний засіб.

Підвох у тому, що на знаку намальований легковий автомобіль, але знак стосується не тільки легкових авто, а механічних транспортних засобів загалом.


Хто з учасників дорожнього руху порушує Правила дорожнього руху в даній ситуації за умови, що водій таксі везе пасажирів, який проживає в зазначеній зоні?

8,3 тис. неправильних

7,2 тис. правильних



- А Людина, що керує гужовим возом.
- Б Велосипедист.
- В Водій мопеда.
- Г Водій таксі, що везе пасажирів, який проживає в цій зоні.
- Д Ніхто не порушує.

На зображенні встановлений знак 3.2  "Рух механічних транспортних засобів заборонено". Він забороняє рух транспортним засобам з двигуном.

Хто не порушує:

Людина, що керує гужовим возом — не порушує. Гужовий віз не є механічним транспортним засобом, бо рухається не двигуном.

Велосипедист — не порушує. Звичайний велосипед також не є механічним транспортним засобом.

Водій таксі — не порушує за умовою задачі. У питанні спеціально сказано, що таксі везе пасажирів, який проживає в зазначеній зоні. Для таких випадків є виняток: транспортний засіб може заїхати в зону, якщо обслуговує осіб, які там проживають або працюють.

Хто порушує:


Водій мопеда — порушує. Мопед має двигун, тобто це механічний транспортний засіб. На нього дія цього знака поширюється, а в умові задачі немає винятку для водія мопеда.

Підвох у таксі. На перший погляд здається, що таксі теж не може їхати, бо воно механічне. Але в умові прямо зазначено: воно перевозить пасажирів, який проживає в цій зоні. Тому таксі підпадає під виняток.

Як водій білого автомобіля, що наближається до перехрестя, повинен проїхати дане перехрестя?

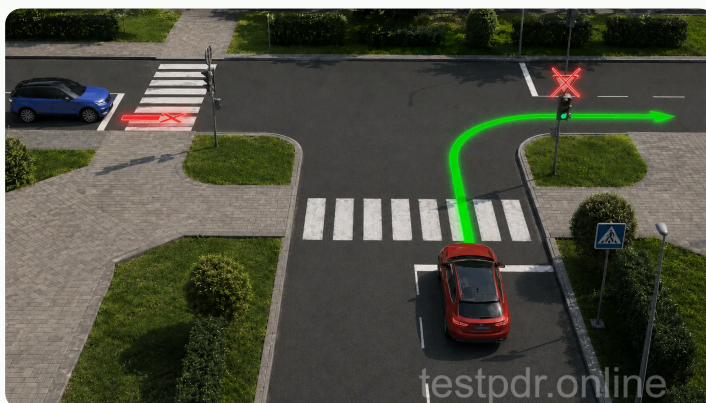
7,1 тис. неправильних

6,2 тис. правильних



- A** Зупинитися перед розміткою «Стоп-лінія» і далі продовжити рух.
- Б** Зупинитися перед розміткою «Стоп-лінія» і, давши дорогу іншим транспортним засобам, продовжити рух.
- В** Проїхати перехрестя без зупинки.

Перехрестя, де черговість проїзду визначається сигналами світлофора чи регулювальника, вважається регульованим. На такому перехресті знаки пріоритету не діють.



Який із зображених дорожніх знаків повторюється перед небезпечною ділянкою дороги за межами населених пунктів?

6,8 тис. неправильних

5,9 тис. правильних



1



2



3



4

A Знак 1.

Б Знак 2.

В Знак 3.

Г Знак 4.

Д Усі зображені дорожні знаки.

Знак 1.8  позначає виїзд на берег водойми, у тому числі на поромну переправу (застосовується з табличкою 7.11 ). Знак встановлюється поза населеними пунктами на відстані 150-300 м, у населених пунктах на відстані 50-100 м до початку небезпечної ділянки. У разі потреби знак встановлюється і на іншій відстані, яка зазначається на табличці 7.1.1 . Поза населеними пунктами знак повторюється. Наступний знак встановлюється на відстані щонайменше 50 м до початку небезпечної ділянки.


Чи дозволено водієві сірого автомобіля виконати обгін у зображеній ситуації?

6,5 тис. неправильних


5,6 тис. правильних



- A** Дозволено, якщо швидкість транспорту, який обганяють, менш ніж 40 км/год.
- B** Обгін у зображеній ситуації заборонено.
- B** Дозволено, якщо швидкість транспорту, який обганяють, менш ніж 30 км/год.

Знак 3.25  забороняє обгін усіх транспортних засобів (крім поодиноких, що рухаються із швидкістю менше 30 км/год). Поодинокими вважаються одиночні транспортні засоби, автопоїзди, а також буксируючий транспортний засіб у зчепленні з буксированим.

Зона дії знаку - від місця встановлення до найближчого перехрестя за ним, а в населених пунктах, де немає перехрестя, - до кінця населеного пункту. Дія знаку не переривається в місцях виїзду з прилеглих до дороги територій і в місцях перехрещення (прилягання) з польовими, лісовими та іншими дорогами без покриття, перед якими не встановлено знаки пріоритету.

Зона дії знаку може бути зменшена установленням у кінці зони його дії знаку 3.26 .


На які з перелічених транспортних засобів не поширюється дія зображеного дорожнього знака?

6,3 тис. неправильних

5,5 тис. правильних



- А** На транспортні засоби осіб, які працюють або проживають у зоні, куди заборонено поворот.
- Б** На транспортні засоби, що рухаються з увімкненим проблісковим маячком оранжевого кольору.
- В** На маршрутні транспортні засоби, що рухаються за встановленим маршрутом.
- Г** На транспортні засоби, позначені розпізнавальним знаком «Водій з інвалідністю», якими керують водії з інвалідністю.
- Д** Відповіді 1, 2, 3 і 4.

Наказовий знак 4.5  "Рух прямо або ліворуч" дозволяє рух тільки прямо або ліворуч. Також такий знак дозволяє розворот.

Але для цього знаку є виняток: його дія не поширюється на транспортні засоби, що рухаються за встановленими маршрутами.

Тобто маршрутний автобус, тролейбус або трамвай, який їде своїм затвердженим маршрутом, може рухатися не так, як показує цей знак, якщо цього вимагає його маршрут.

Інших винятків у знака немає.

Тепер закріпіть результат онлайн

Ці 20 питань варто не просто прочитати, а пройти у тесті, розібрати помилки і повернутись до тем, де відповідь була неочевидною.

Якщо після розбору ви можете пояснити відповідь своїми словами, питання вже не є пасткою.



ДЕНЬ
1

Пройти 20 найскладніших питань

Відповідайте без підказок. Після кожної помилки відкрийте пояснення і пов'язаний пункт правил.

testpdr.online/test.php?test=hardest

ДЕНЬ
2

Повторити теми, де були сумніви

Знаки, розмітка, перехрестя, швидкість, медицина і відповідальність краще повторювати окремими блоками.

testpdr.online/rozdil.php

ДЕНЬ
3

Скласти пробний іспит

Якщо пробний іспит проходиться стабільно, помилки з добірки вже не мають повторюватись.

testpdr.online/test.php?test=exam